

2087

БИБЛИОТЕКА ПРОГРАММЫ
ОТ РОЖДЕНИЯ
ДО ШКОЛЫ



СРЕДНЯЯ ГРУППА
4+

$$2 + 1 =$$

$$\cdot + \cdot =$$



Математика для малышей

Рабочая
тетрадь




ВОСПИТАННИКА СРЕДНЕЙ ГРУППЫ

ДЕТСКОГО САДА




Тема: Сравнение множеств

А.




Б.








А. Нарисуйте в квадратах рядом с картинками столько точек, сколько предметов на картинке. Каких предметов больше всего? Закрасьте квадрат рядом с этими предметами в желтый цвет.

Б. Настала пора собирать урожай. Гномик хочет узнать, чего у него больше: яблок или груш? Подскажите ему, чего больше: груш на грушевом дереве или яблок на яблоне? На сколько? Сосчитайте, сколько груш и сколько яблок упало на землю.

А.)



Б.)






А. Сколько было кубиков? Сколько стало? Сколько кубиков принес Гномик? Как получилось число 2? Какое число больше, число 2 или число 1? На сколько больше?

Б. Из каких фигур состоит этот забавный петушок? Поставьте в красном треугольнике столько точек, сколько треугольничков отыщется на рисунке, а в синем круге — столько точек, сколько кружков. Чего на рисунке больше: кружков или треугольников?

Тема: Число 3

А.)



Б.)





А. Сколько было кубиков? Сколько стало? Сколько кубиков принес Гномик? Как получилось число 3? Какое число больше, число 3 или число 2? На сколько больше?


Б. Назовите числа на карточках. Сосчитайте предметы и соедините каждое множество предметов со своим числом. Какое множество самое большое? (Каких предметов больше всего?) Какое число самое большое? Какое множество самое маленькое? (Каких предметов меньше всего?) Какое число самое маленькое?

Тема: ЧИСЛО 4

А.)



Б.)



ОТВЕТ:


4

А. Сколько было кубиков? Сколько стало? Сколько кубиков принес Гномик? Как получилось число 4? Какое число больше: 3 или 4? На сколько?

Б. В одном аквариуме 3 рыбки, а в другом 1. Сколько всего рыбок в двух аквариумах? Нарисуйте в квадратике столько точек, сколько всего рыбок в двух аквариумах.

Тема: Число 5

А.)



Б.)



А. Сколько было кубиков? Сколько стало? Сколько кубиков принес Гномик? Как получилось число 5? Какое число больше: 4 или 5? На сколько?

Б. Гномик решил сделать фишки для игры. Ему надо, чтобы на одной половинке было написано число, а на второй стояло столько точек, сколько это число обозначает. Нарисуйте для Гномика нужное количество точек на каждой фишке.

Тема: Числа от 1 до 5


1



2



3



4



5



6

Сосчитайте, сколько предметов на каждой карточке. Какая цифра написана на карточке с кораблями? На карточке с уточками? (И т. д.) Назовите все числа сверху вниз по порядку. Скажите, что изображено на карточках. Ответить лучше так: «На **первой** карточке нарисован слоник, на **второй**...» Раскрасьте в каждом ряду столько фигурок, сколько обозначает цифра, стоящая в начале этого ряда.

